


Lecture d'une Horloge Analogique (A)

Nom: _____

Date: _____

Lisez chaque heure et écrivez-la dans l'espace sous l'horloge.


1.



Minuit

Midi


2.



Minuit

Midi


3.



Midi

Minuit

4.



Midi

Minuit

Lecture d'une Horloge Analogique (A) Solutions

Nom: _____

Date: _____

Lisez chaque heure et écrivez-la dans l'espace sous l'horloge.

1.



2.



3.



4.

