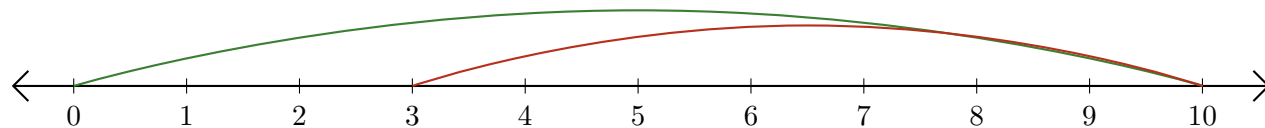


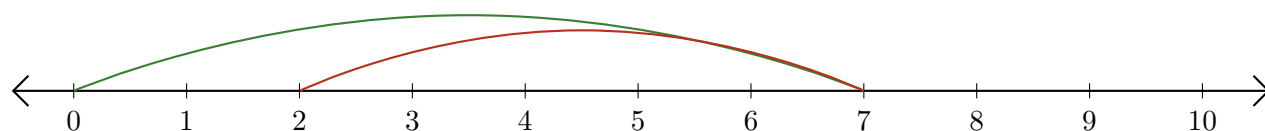
Lecture de Nombres sur une Droite Graduée (F)

Déterminez les termes et la différence (résultat) représentés sur chaque droite graduée.

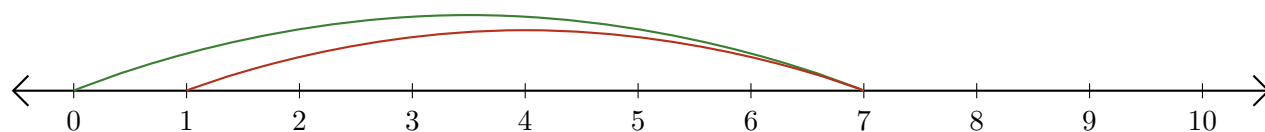
1. $\underline{\quad} - \underline{\quad} = \underline{\quad}$



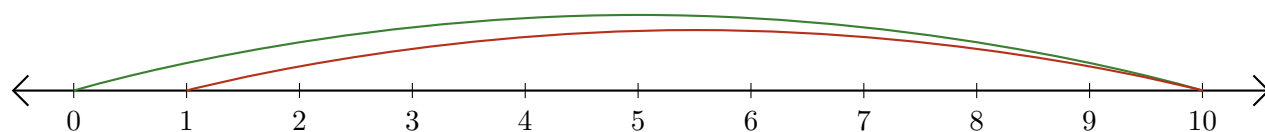
2. $\underline{\quad} - \underline{\quad} = \underline{\quad}$



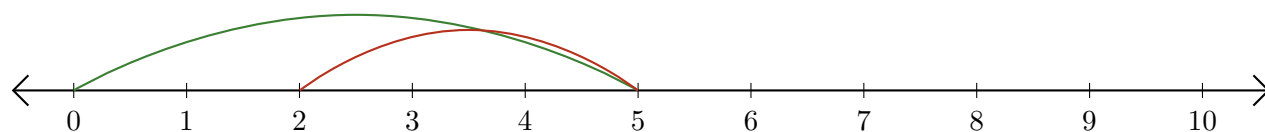
3. $\underline{\quad} - \underline{\quad} = \underline{\quad}$



4. $\underline{\quad} - \underline{\quad} = \underline{\quad}$



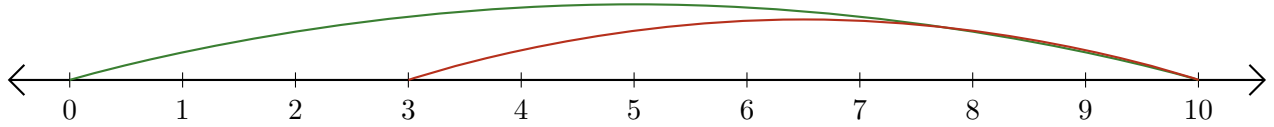
5. $\underline{\quad} - \underline{\quad} = \underline{\quad}$



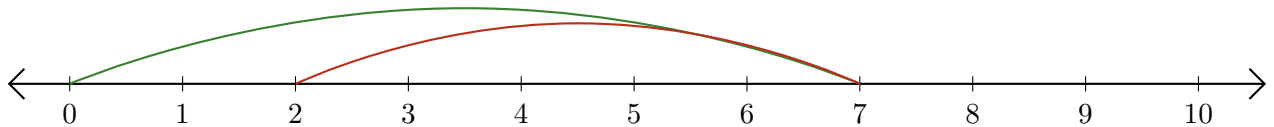
Lecture de Nombres sur une Droite Graduée (F) Réponses

Déterminez les termes et la différence (résultat) représentés sur chaque droite graduée.

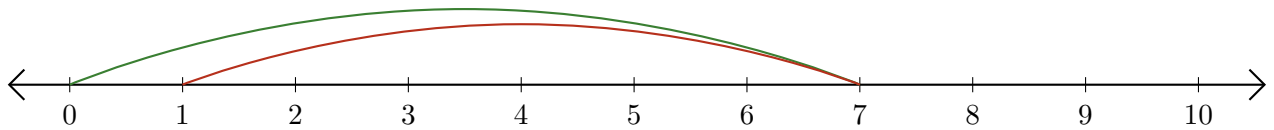
1. $\underline{10} - \underline{7} = \underline{3}$



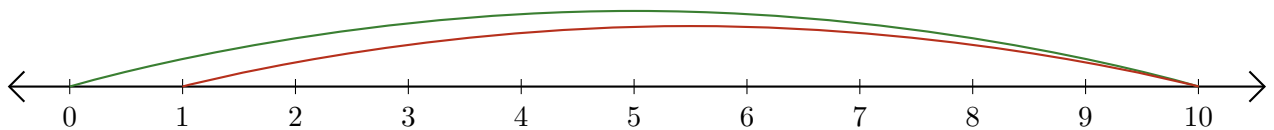
2. $\underline{7} - \underline{5} = \underline{2}$



3. $\underline{7} - \underline{6} = \underline{1}$



4. $\underline{10} - \underline{9} = \underline{1}$



5. $\underline{5} - \underline{3} = \underline{2}$

