

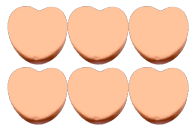
## Compter des bonbons en forme de cœurs (C)

Nom: \_\_\_\_\_


Date: \_\_\_\_\_

Comptes combien de bonbons en forme de cœurs il y a dans chaque groupe.

1. Il y a \_\_\_\_\_ cœurs oranges dans le groupe ci-dessous.




2. Il y a \_\_\_\_\_ cœurs oranges dans le groupe ci-dessous.



3. Il y a \_\_\_\_\_ cœurs roses dans le groupe ci-dessous.



4. Il y a \_\_\_\_\_ cœurs bleus dans le groupe ci-dessous.



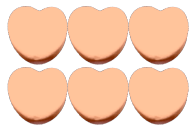
## Compter des bonbons en forme de cœurs (C) Réponses

Nom: \_\_\_\_\_


Date: \_\_\_\_\_

Comptes combien de bonbons en forme de cœurs il y a dans chaque groupe.

1. Il y a 6 cœurs oranges dans le groupe ci-dessous.



2. Il y a 5 cœurs oranges dans le groupe ci-dessous.



3. Il y a 6 cœurs roses dans le groupe ci-dessous.



4. Il y a 7 cœurs bleus dans le groupe ci-dessous.

