




# Œufs de Pâques dans le Panier (J)


Mettez les œufs de Pâques qui ont des sommes supérieures à 18 dans le panier.



$$\begin{array}{r} 14 \\ + 9 \\ \hline \end{array}$$



$$\begin{array}{r} 6 \\ + 12 \\ \hline \end{array}$$



$$\begin{array}{r} 5 \\ + 8 \\ \hline \end{array}$$



$$\begin{array}{r} 8 \\ + 6 \\ \hline \end{array}$$



$$\begin{array}{r} 9 \\ + 9 \\ \hline \end{array}$$



$$\begin{array}{r} 17 \\ + 1 \\ \hline \end{array}$$



$$\begin{array}{r} 2 \\ + 8 \\ \hline \end{array}$$



$$\begin{array}{r} 4 \\ + 14 \\ \hline \end{array}$$



$$\begin{array}{r} 3 \\ + 10 \\ \hline \end{array}$$



$$\begin{array}{r} 15 \\ + 2 \\ \hline \end{array}$$



$$\begin{array}{r} 12 \\ + 2 \\ \hline \end{array}$$



$$\begin{array}{r} 7 \\ + 5 \\ \hline \end{array}$$



$$\begin{array}{r} 6 \\ + 3 \\ \hline \end{array}$$



$$\begin{array}{r} 12 \\ + 14 \\ \hline \end{array}$$


$$\begin{array}{r} 3 \\ + 9 \\ \hline \end{array}$$


$$\begin{array}{r} 17 \\ + 15 \\ \hline \end{array}$$


$$\begin{array}{r} 8 \\ + 6 \\ \hline \end{array}$$


$$\begin{array}{r} 14 \\ + 16 \\ \hline \end{array}$$


$$\begin{array}{r} 4 \\ + 8 \\ \hline \end{array}$$


$$\begin{array}{r} 5 \\ + 1 \\ \hline \end{array}$$



Combien d'œufs de Pâques iront dans ce panier?