




Œufs de Pâques dans le Panier (J)


Mettez les œufs de Pâques qui ont des sommes supérieures à 18 dans le panier.



$$\begin{array}{r} 14 \\ + 9 \\ \hline \end{array}$$



$$\begin{array}{r} 6 \\ + 12 \\ \hline \end{array}$$



$$\begin{array}{r} 5 \\ + 8 \\ \hline \end{array}$$



$$\begin{array}{r} 8 \\ + 6 \\ \hline \end{array}$$



$$\begin{array}{r} 9 \\ + 9 \\ \hline \end{array}$$



$$\begin{array}{r} 17 \\ + 1 \\ \hline \end{array}$$



$$\begin{array}{r} 2 \\ + 8 \\ \hline \end{array}$$



$$\begin{array}{r} 4 \\ + 14 \\ \hline \end{array}$$



$$\begin{array}{r} 3 \\ + 10 \\ \hline \end{array}$$



$$\begin{array}{r} 15 \\ + 2 \\ \hline \end{array}$$



$$\begin{array}{r} 12 \\ + 2 \\ \hline \end{array}$$



$$\begin{array}{r} 7 \\ + 5 \\ \hline \end{array}$$



$$\begin{array}{r} 6 \\ + 3 \\ \hline \end{array}$$



$$\begin{array}{r} 12 \\ + 14 \\ \hline \end{array}$$



$$\begin{array}{r} 3 \\ + 9 \\ \hline \end{array}$$


$$\begin{array}{r} 17 \\ + 15 \\ \hline \end{array}$$


$$\begin{array}{r} 8 \\ + 6 \\ \hline \end{array}$$


$$\begin{array}{r} 14 \\ + 16 \\ \hline \end{array}$$


$$\begin{array}{r} 4 \\ + 8 \\ \hline \end{array}$$


$$\begin{array}{r} 5 \\ + 1 \\ \hline \end{array}$$





Combien d'œufs de Pâques iront dans ce panier?


Œufs de Pâques dans le Panier (J) Réponses


Mettez les œufs de Pâques qui ont des sommes supérieures à 18 dans le panier.


$$\begin{array}{r} 14 \\ + 9 \\ \hline 23 \end{array}$$



$$\begin{array}{r} 6 \\ + 12 \\ \hline 18 \end{array}$$



$$\begin{array}{r} 5 \\ + 8 \\ \hline 13 \end{array}$$



$$\begin{array}{r} 8 \\ + 6 \\ \hline 14 \end{array}$$



$$\begin{array}{r} 9 \\ + 9 \\ \hline 18 \end{array}$$



$$\begin{array}{r} 17 \\ + 1 \\ \hline 18 \end{array}$$



$$\begin{array}{r} 2 \\ + 8 \\ \hline 10 \end{array}$$



$$\begin{array}{r} 4 \\ + 14 \\ \hline 18 \end{array}$$



$$\begin{array}{r} 3 \\ + 10 \\ \hline 13 \end{array}$$



$$\begin{array}{r} 15 \\ + 2 \\ \hline 17 \end{array}$$



$$\begin{array}{r} 12 \\ + 2 \\ \hline 14 \end{array}$$


$$\begin{array}{r} 7 \\ + 5 \\ \hline 12 \end{array}$$



$$\begin{array}{r} 6 \\ + 3 \\ \hline 9 \end{array}$$


$$\begin{array}{r} 12 \\ + 14 \\ \hline 26 \end{array}$$



$$\begin{array}{r} 3 \\ + 9 \\ \hline 12 \end{array}$$


$$\begin{array}{r} 17 \\ + 15 \\ \hline 32 \end{array}$$


$$\begin{array}{r} 8 \\ + 6 \\ \hline 14 \end{array}$$


$$\begin{array}{r} 14 \\ + 16 \\ \hline 30 \end{array}$$


$$\begin{array}{r} 4 \\ + 8 \\ \hline 12 \end{array}$$


$$\begin{array}{r} 5 \\ + 1 \\ \hline 6 \end{array}$$



Combien d'œufs de Pâques iront dans ce panier?

4

Joyeuses Pâques de la part de Mathslibres.com!