

Œufs de Pâques dans le Panier (A)

Mettez les œufs de Pâques qui ont des sommes supérieures à 18 dans le panier.



$$\begin{array}{r} 4 \\ + 5 \\ \hline \end{array}$$



$$\begin{array}{r} 6 \\ + 14 \\ \hline \end{array}$$



$$\begin{array}{r} 6 \\ + 7 \\ \hline \end{array}$$



$$\begin{array}{r} 12 \\ + 10 \\ \hline \end{array}$$



$$\begin{array}{r} 8 \\ + 2 \\ \hline \end{array}$$



$$\begin{array}{r} 6 \\ + 7 \\ \hline \end{array}$$



$$\begin{array}{r} 18 \\ + 9 \\ \hline \end{array}$$



$$\begin{array}{r} 2 \\ + 18 \\ \hline \end{array}$$



$$\begin{array}{r} 16 \\ + 14 \\ \hline \end{array}$$



$$\begin{array}{r} 13 \\ + 5 \\ \hline \end{array}$$



$$\begin{array}{r} 5 \\ + 2 \\ \hline \end{array}$$



$$\begin{array}{r} 5 \\ + 16 \\ \hline \end{array}$$



$$\begin{array}{r} 4 \\ + 7 \\ \hline \end{array}$$



$$\begin{array}{r} 13 \\ + 9 \\ \hline \end{array}$$



$$\begin{array}{r} 18 \\ + 2 \\ \hline \end{array}$$



$$\begin{array}{r} 4 \\ + 18 \\ \hline \end{array}$$



$$\begin{array}{r} 9 \\ + 14 \\ \hline \end{array}$$



$$\begin{array}{r} 8 \\ + 11 \\ \hline \end{array}$$



$$\begin{array}{r} 6 \\ + 15 \\ \hline \end{array}$$




$$\begin{array}{r} 4 \\ + 4 \\ \hline \end{array}$$


Combien d'œufs de Pâques iront dans ce panier?


Joyeuses Pâques de la part de Mathslibres.com!


Œufs de Pâques dans le Panier (A) Réponses


Mettez les œufs de Pâques qui ont des sommes supérieures à 18 dans le panier.



$$\begin{array}{r} 4 \\ + 5 \\ \hline 9 \end{array}$$


$$\begin{array}{r} 6 \\ + 14 \\ \hline 20 \end{array}$$



$$\begin{array}{r} 6 \\ + 7 \\ \hline 13 \end{array}$$



$$\begin{array}{r} 12 \\ + 10 \\ \hline 22 \end{array}$$



$$\begin{array}{r} 8 \\ + 2 \\ \hline 10 \end{array}$$



$$\begin{array}{r} 6 \\ + 7 \\ \hline 13 \end{array}$$



$$\begin{array}{r} 18 \\ + 9 \\ \hline 27 \end{array}$$



$$\begin{array}{r} 2 \\ + 18 \\ \hline 20 \end{array}$$



$$\begin{array}{r} 16 \\ + 14 \\ \hline 30 \end{array}$$



$$\begin{array}{r} 13 \\ + 5 \\ \hline 18 \end{array}$$



$$\begin{array}{r} 5 \\ + 2 \\ \hline 7 \end{array}$$



$$\begin{array}{r} 5 \\ + 16 \\ \hline 21 \end{array}$$



$$\begin{array}{r} 4 \\ + 7 \\ \hline 11 \end{array}$$



$$\begin{array}{r} 13 \\ + 9 \\ \hline 22 \end{array}$$



$$\begin{array}{r} 18 \\ + 2 \\ \hline 20 \end{array}$$


$$\begin{array}{r} 4 \\ + 18 \\ \hline 22 \end{array}$$


$$\begin{array}{r} 9 \\ + 14 \\ \hline 23 \end{array}$$


$$\begin{array}{r} 8 \\ + 11 \\ \hline 19 \end{array}$$


$$\begin{array}{r} 6 \\ + 15 \\ \hline 21 \end{array}$$


$$\begin{array}{r} 4 \\ + 4 \\ \hline 8 \end{array}$$



Combien d'œufs de Pâques iront dans ce panier?

12

Joyeuses Pâques de la part de Mathslibres.com!