

QU'EST-CE QUE LE CADEAU? (A)

Quel nombre se trouve dans chaque cadeau?

$75 - 40 =$ 

$18 - 7 =$ 

$41 - 26 =$ 

$51 - 25 =$ 

$60 - 37 =$ 

$61 -$  $= 13$

$93 -$  $= 46$

$51 -$  $= 40$


$23 -$  $= 14$

$52 -$  $= 20$

$$  $- 4 = 3$

$$  $- 23 = 47$

$$  $- 36 = 18$

$$  $- 11 = 23$

$$  $- 38 = 18$

$45 - 38 =$ 

$32 - 2 =$ 

$36 - 12 =$ 

$34 - 4 =$ 

$42 - 12 =$ 

$29 -$  $= 9$

$45 -$  $= 36$


$23 -$  $= 15$


$50 -$  $= 25$

$86 -$  $= 44$

$$  $- 4 = 30$

$$  $- 25 = 13$

$$  $- 17 = 41$

$$  $- 41 = 26$


$$  $- 44 = 32$

$30 - 24 =$ 

$59 - 47 =$ 

$84 - 39 =$ 

$67 - 44 =$ 

$49 - 11 =$ 


$10 -$  $= 4$

$46 -$  $= 12$

$86 -$  $= 44$

$96 -$  $= 48$


$18 -$  $= 4$

$$  $- 3 = 31$

$$  $- 38 = 46$

$$  $- 25 = 49$

$$  $- 5 = 11$

$$  $- 45 = 27$