




QU'EST-CE QUE LE CADEAU? (A)


Quel nombre se trouve dans chaque cadeau?

$70 \div 10 =$ 

$15 \div 5 =$ 

$60 \div 12 =$ 

$108 \div 9 =$ 

$6 \div 3 =$ 

$50 \div$  $= 10$

$77 \div$  $= 7$


$12 \div$  $= 2$


$66 \div$  $= 11$


$20 \div$  $= 10$


$$  $\div 6 = 8$

$$  $\div 5 = 9$

$$  $\div 8 = 7$

$$  $\div 4 = 12$

$$  $\div 6 = 12$

$55 \div 11 =$ 

$48 \div 6 =$ 

$40 \div 8 =$ 

$22 \div 2 =$ 

$16 \div 4 =$ 

$24 \div$  $= 12$


$45 \div$  $= 5$


$88 \div$  $= 8$


$10 \div$  $= 2$


$6 \div$  $= 2$

$$  $\div 5 = 10$

$$  $\div 9 = 9$

$$  $\div 10 = 3$

$$  $\div 10 = 4$

$$  $\div 9 = 12$

$144 \div 12 =$ 

$45 \div 5 =$ 

$10 \div 2 =$ 

$36 \div 6 =$ 

$48 \div 4 =$ 


$60 \div$  $= 10$

$80 \div$  $= 8$


$60 \div$  $= 6$


$63 \div$  $= 9$


$108 \div$  $= 12$

$$  $\div 10 = 3$

$$  $\div 4 = 2$

$$  $\div 6 = 6$

$$  $\div 12 = 4$

$$  $\div 6 = 3$