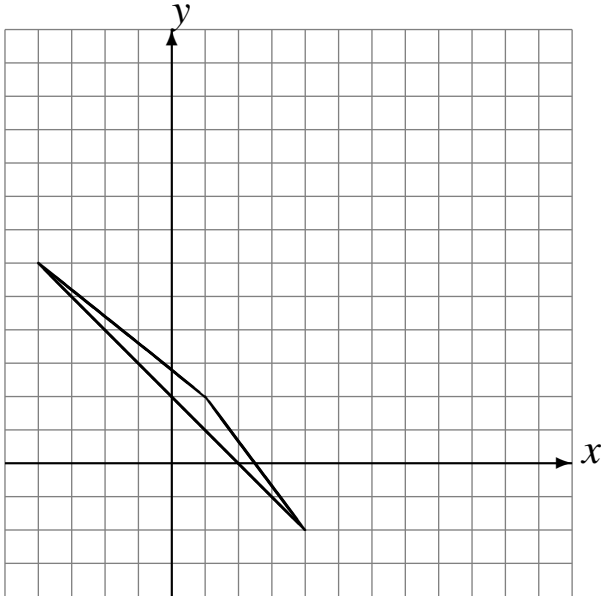


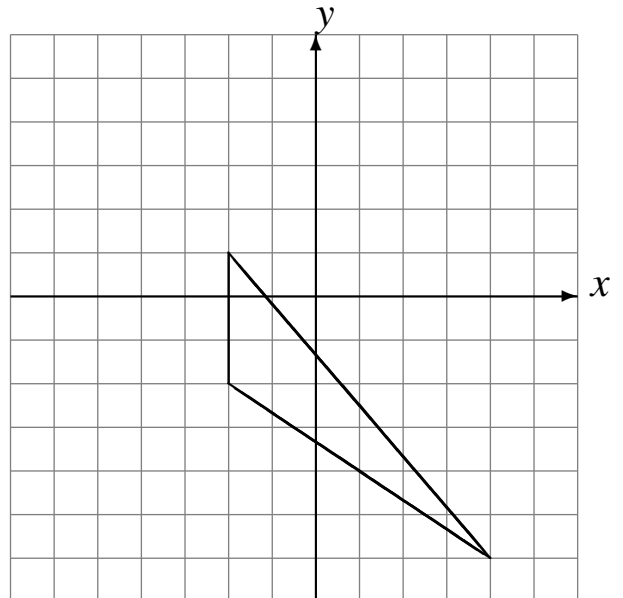
# Translations (A)

Dessinez l'image finale et les étapes intermédiaires de la translation décrite.

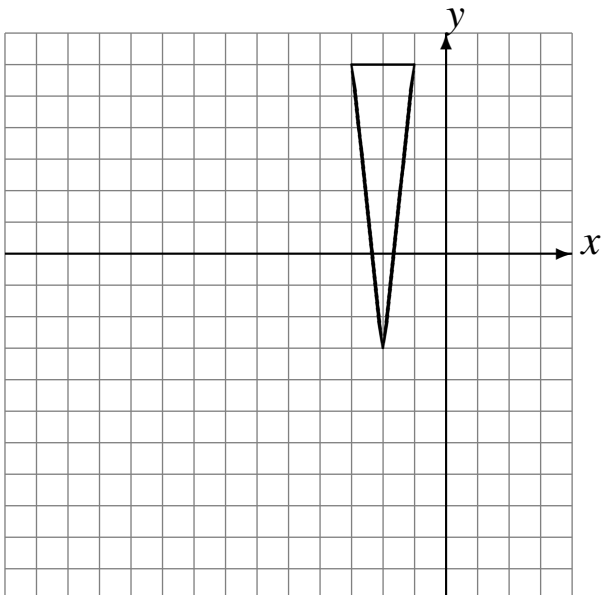
Déplacement de la figure par  $(1, 0)$ .  
Déplacement de la figure par  $(6, 5)$ .



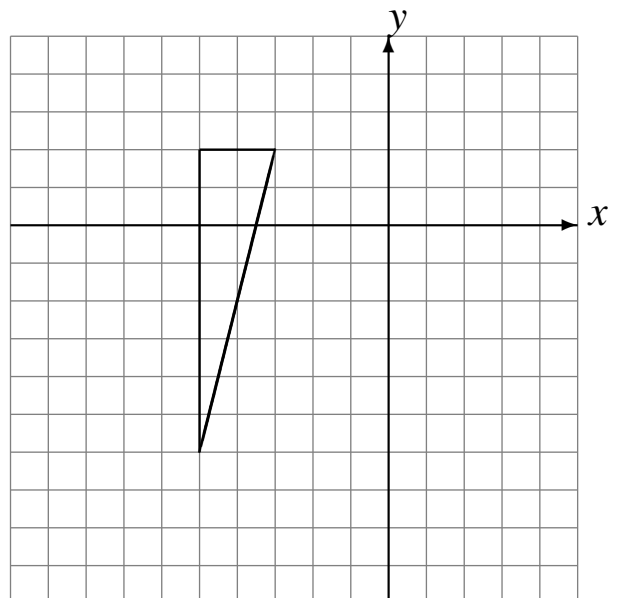
Déplacement de la figure par  $(-4, 4)$ .  
Déplacement de la figure par  $(2, -3)$ .



Déplacement de la figure par  $(-5, -5)$ .  
Déplacement de la figure par  $(-3, -2)$ .



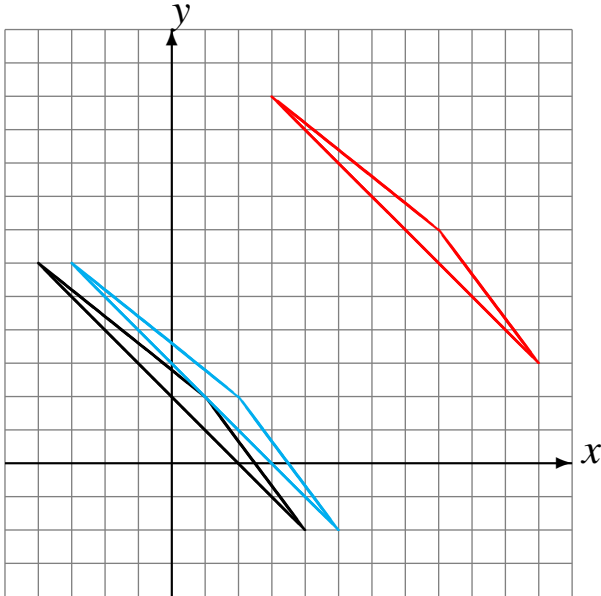
Déplacement de la figure par  $(0, 2)$ .  
Déplacement de la figure par  $(1, -5)$ .



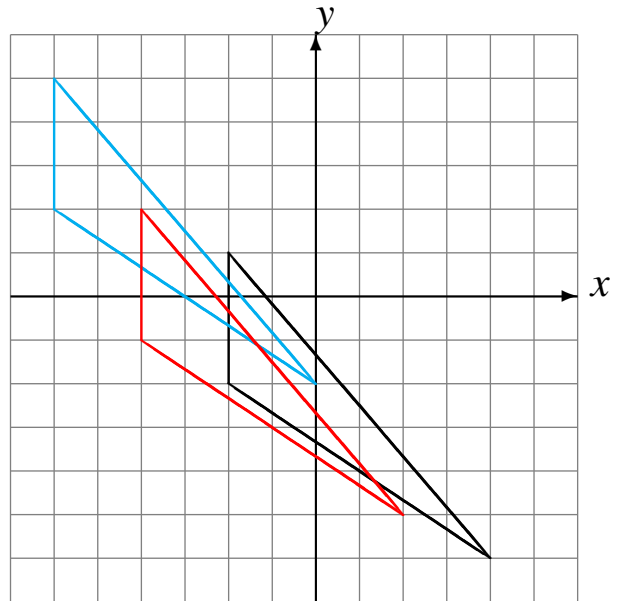
# Translations (A) Solutions

Dessinez l'image finale et les étapes intermédiaires de la translation décrite.

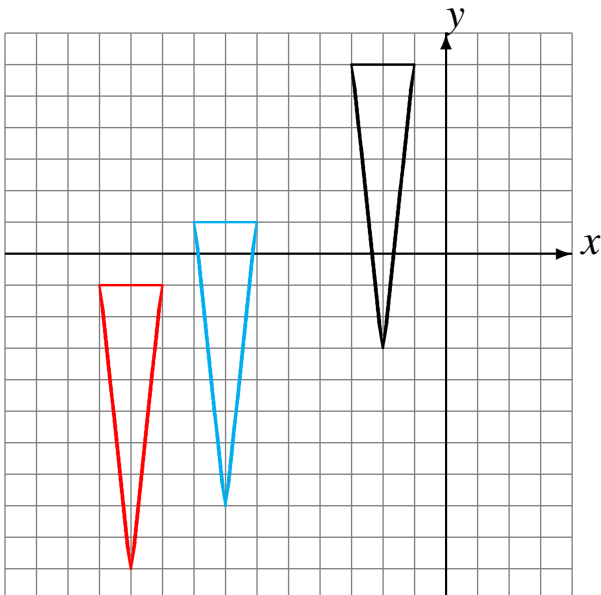
Déplacement de la figure par  $(1, 0)$ .  
Déplacement de la figure par  $(6, 5)$ .



Déplacement de la figure par  $(-4, 4)$ .  
Déplacement de la figure par  $(2, -3)$ .



Déplacement de la figure par  $(-5, -5)$ .  
Déplacement de la figure par  $(-3, -2)$ .



Déplacement de la figure par  $(0, 2)$ .  
Déplacement de la figure par  $(1, -5)$ .

