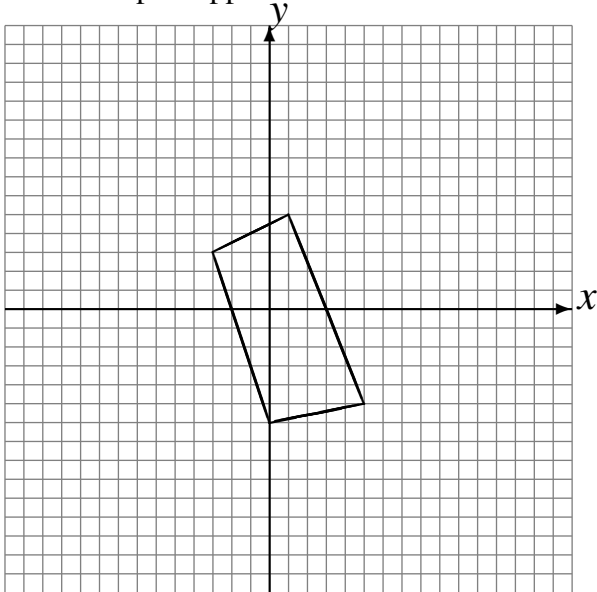


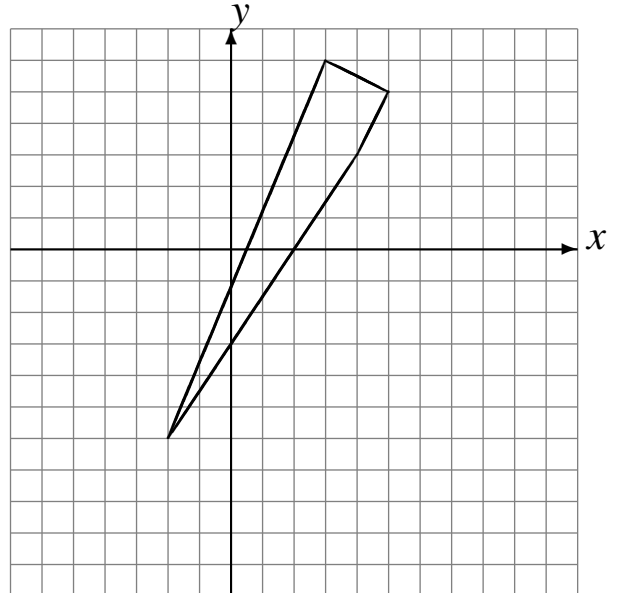
Réflexions (J)

Dessinez l'image finale et les étapes intermédiaires de la réflexion décrite.

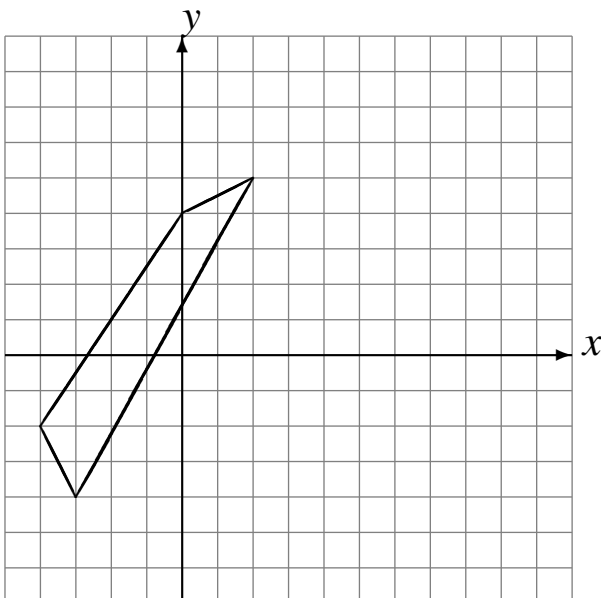
Réflexion par rapport à l'axe $x = -4$.
Réflexion par rapport à l'axe $x = 1$.



Réflexion par rapport à l'axe $y = 0$.
Réflexion par rapport à l'axe $y = -2$.



Réflexion par rapport à l'axe $x = 3$.
Réflexion par rapport à l'axe $y = 1$.



Réflexion par rapport à l'axe $y = 4$.
Réflexion par rapport à l'axe $x = -1$.

