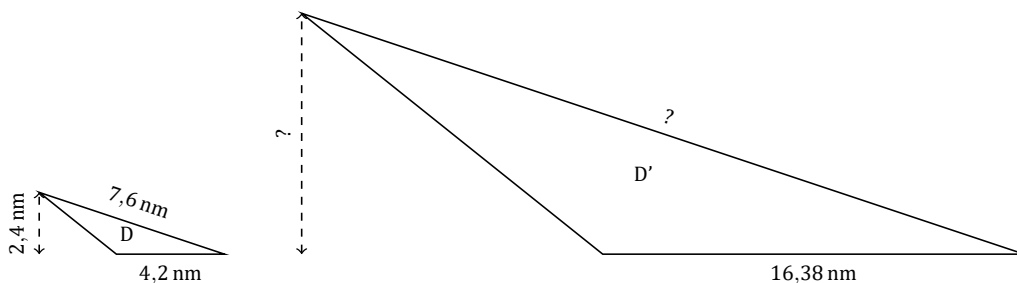
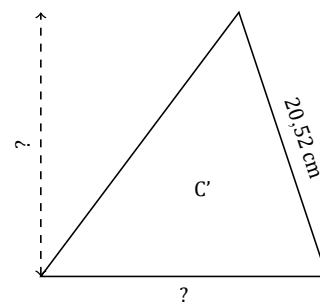
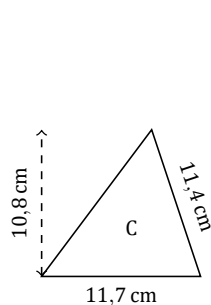
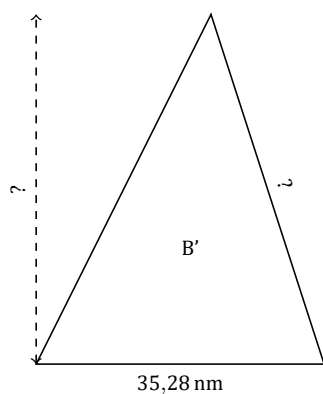
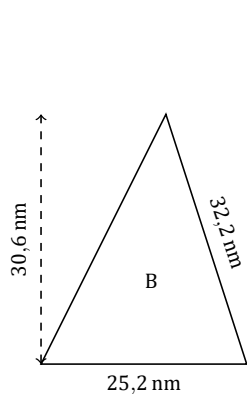
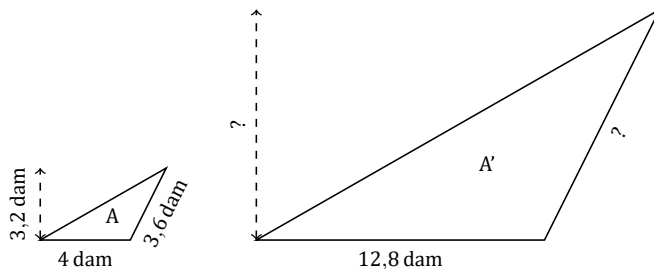


# Facteur d'Échelle (A)

Nom: \_\_\_\_\_

Date: \_\_\_\_\_

Déterminez le facteur d'échelle pour chaque figure et marquez les longueurs manquantes.



# Facteur d'Échelle (A) Réponses

Nom: \_\_\_\_\_

Date: \_\_\_\_\_

Déterminez le facteur d'échelle pour chaque figure et marquez les longueurs manquantes.

