
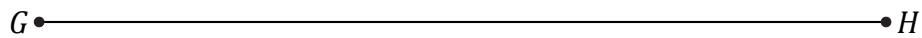





Construction du Milieu d'un Segment (A)

Nom: _____

Date: _____

Construisez le milieu d'un segment à l'aide d'une règle et un compas.



Construction du Milieu d'un Segment (A) Réponses

Nom: _____

Date: _____

Construisez le milieu d'un segment à l'aide d'une règle et un compas.

