





# Médiatrice d'un Segment (G)

Nom: \_\_\_\_\_

Date: \_\_\_\_\_

Construisez la médiatrice à l'aide d'une règle et un compas.



# Médiatrice d'un Segment (G) Réponses

Nom: \_\_\_\_\_

Date: \_\_\_\_\_

Construisez la médiatrice à l'aide d'une règle et un compas.

