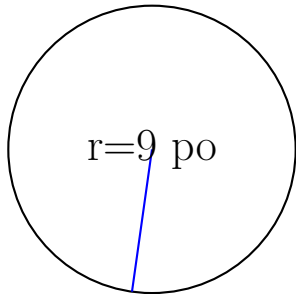
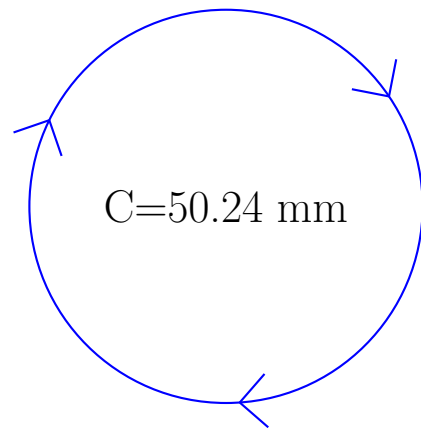


Calcul des Mesures d'un Cercle (I)

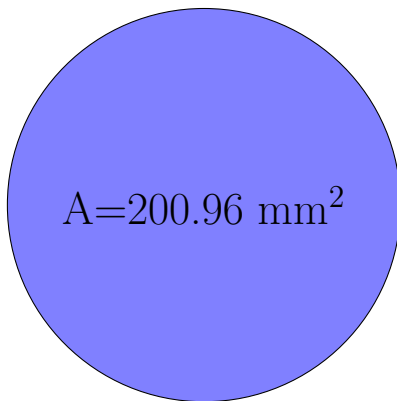
Calculez les mesures de chaque cercles à l'aide de la mesure donnée. Utilisez $\pi = 3.14$



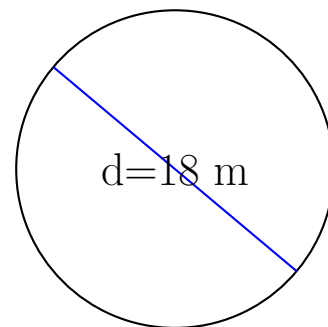
rayon = 9 po
diamètre = _____
circonférence = _____
aire = _____



rayon = _____
diamètre = _____
circonférence = 50.24 mm
aire = _____



rayon = _____
diamètre = _____
circonférence = _____
aire = 200.96 mm²



rayon = _____
diamètre = 18 m
circonférence = _____
aire = _____