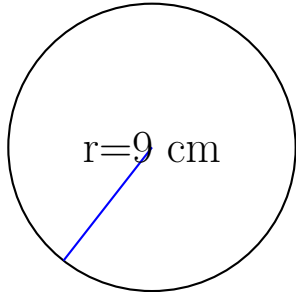
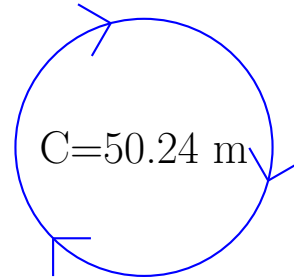


Calcul des Mesures d'un Cercle (A)

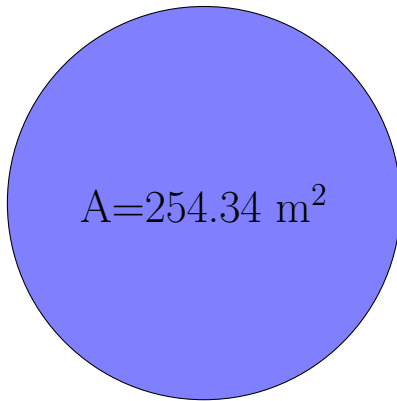
Calculez les mesures de chaque cercles à l'aide de la mesure donnée. Utilisez $\pi = 3.14$



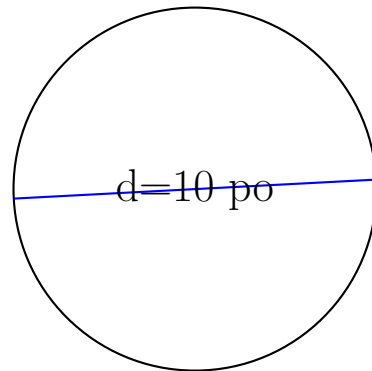
rayon = 9 cm
diamètre = _____
circonférence = _____
aire = _____



rayon = _____
diamètre = _____
circonférence = 50.24 m
aire = _____



rayon = _____
diamètre = _____
circonférence = _____
aire = 254.34 m²



rayon = _____
diamètre = 10 po
circonférence = _____
aire = _____