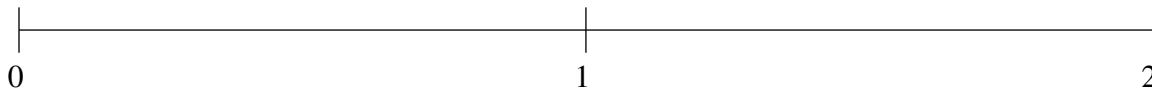


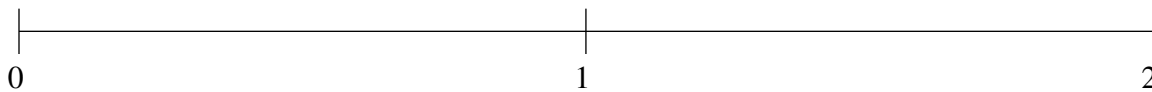
## Classification de Fractions (F)

À l'aide des droites numériques, classifiez chaque série de fractions ci-dessous en ordre croissant.

$$1\frac{1}{3}, 1\frac{3}{4}, \frac{7}{8}, \frac{1}{2}, \frac{1}{5}$$



$$1\frac{1}{7}, 1\frac{6}{7}, \frac{1}{3}, \frac{5}{7}, 1\frac{1}{2}$$



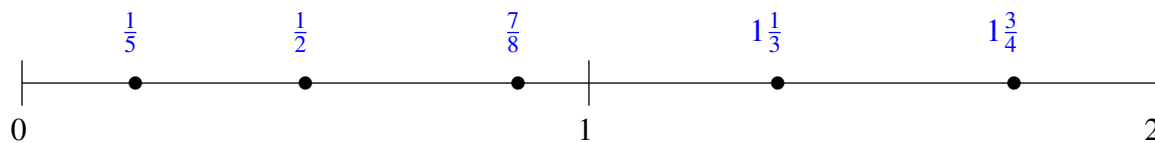
$$\frac{1}{5}, \frac{8}{9}, 1\frac{1}{4}, 1\frac{7}{9}, \frac{1}{2}$$



## Classification de Fractions (F) Solutions

À l'aide des droites numériques, classifiez chaque série de fractions ci-dessous en ordre croissant.

$$1\frac{1}{3}, 1\frac{3}{4}, \frac{7}{8}, \frac{1}{2}, \frac{1}{5}$$



$$1\frac{1}{7}, 1\frac{6}{7}, \frac{1}{3}, \frac{5}{7}, 1\frac{1}{2}$$



$$\frac{1}{5}, \frac{8}{9}, 1\frac{1}{4}, 1\frac{7}{9}, \frac{1}{2}$$

