

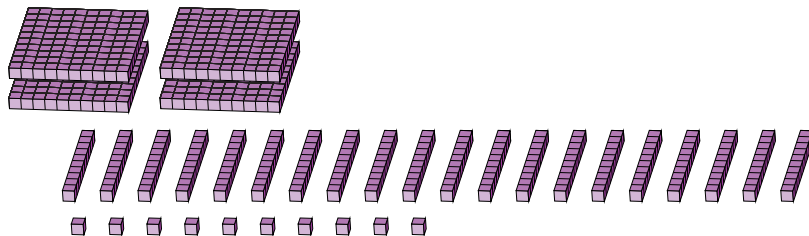
Regroupement en Blocs de Base Dix (F)

Nom: _____

Date: _____

Quel est le nombre indiqué dans chaque bloc de base dix?

1.



centaines



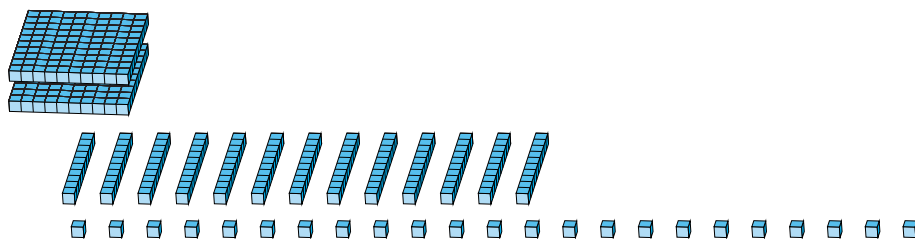
dizaines



unités



2.




centaines



dizaines



unités



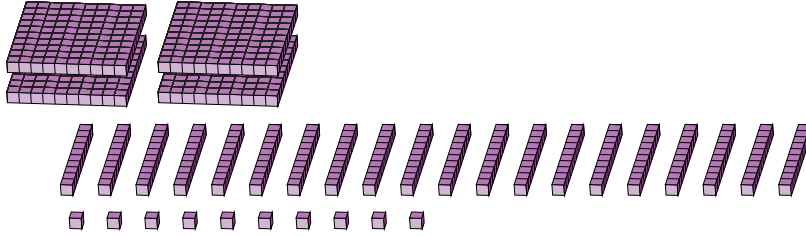
Regroupement en Blocs de Base Dix (F) Réponses

Nom: _____

Date: _____

Quel est le nombre indiqué dans chaque bloc de base dix?

1.



2.

