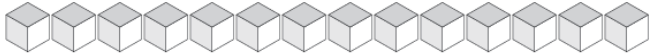
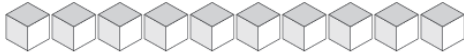


Échange de Blocs de Base Dix (E)

Combien d'unités pouvez-vous échanger pour des dizaines? Combien vous en restera-t-il?



Dizaines	Unités



Dizaines	Unités



Dizaines	Unités



Dizaines	Unités



Dizaines	Unités

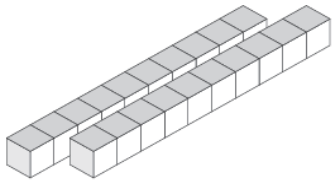


Dizaines	Unités

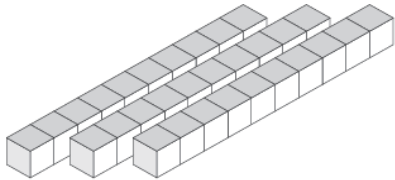


Échange de Blocs de Base Dix (E) Solutions

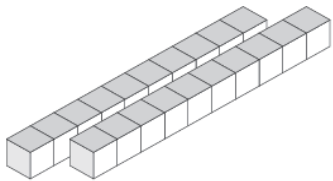
Combien d'unités pouvez-vous échanger pour des dizaines? Combien vous en restera-t-il?



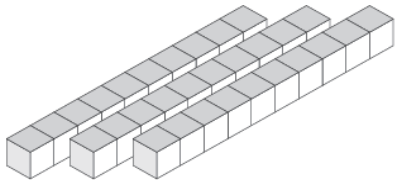
Dizaines	Unités
2	9



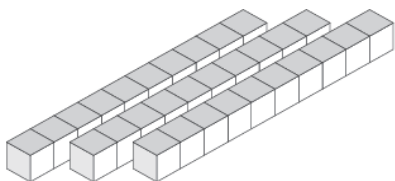
Dizaines	Unités
3	5



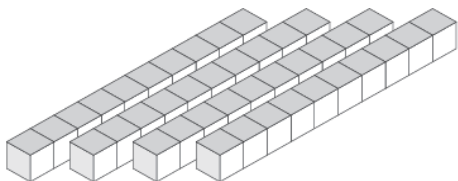
Dizaines	Unités
2	8



Dizaines	Unités
3	3



Dizaines	Unités
3	1



Dizaines	Unités
4	1