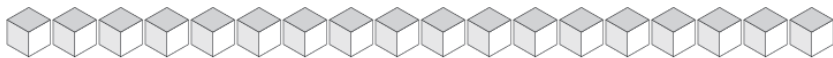


# Échange de Blocs de Base Dix (A)

Combien d'unités pouvez-vous échanger pour des dizaines? Combien vous en restera-t-il?



Dizaines	Unités



Dizaines	Unités



Dizaines	Unités



Dizaines	Unités



Dizaines	Unités

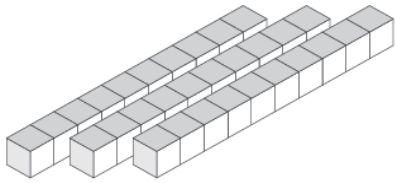


Dizaines	Unités

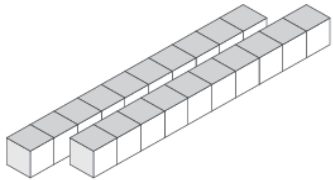


# Échange de Blocs de Base Dix (A) Solutions

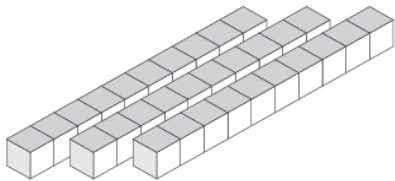
Combien d'unités pouvez-vous échanger pour des dizaines? Combien vous en restera-t-il?



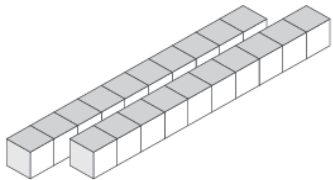
Dizaines	Unités
3	3



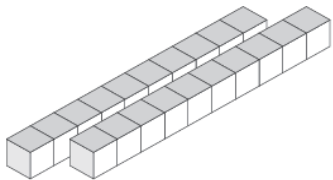
Dizaines	Unités
2	9



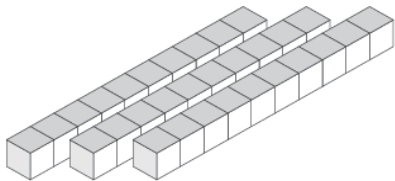
Dizaines	Unités
3	5



Dizaines	Unités
2	2



Dizaines	Unités
2	3



Dizaines	Unités
3	8