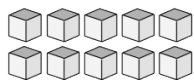
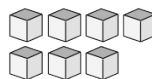


Compte de Blocs de Base Dix (A)

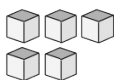
Instructions: Comptez le nombre d'unités qui se trouvent dans chaque groupe ci-dessous.



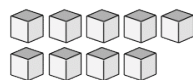
Il y a _____ unités
dans ce groupe.



Il y a _____ unités
dans ce groupe.



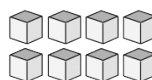
Il y a _____ unités
dans ce groupe.



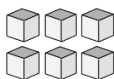
Il y a _____ unités
dans ce groupe.



Il y a _____ unités
dans ce groupe.



Il y a _____ unités
dans ce groupe.



Il y a _____ unités
dans ce groupe.



Il y a _____ unités
dans ce groupe.