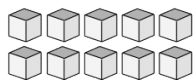
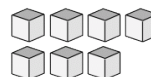


Compte de Blocs de Base Dix (A)

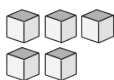
Instructions: Comptez le nombre d'unités qui se trouvent dans chaque groupe ci-dessous.



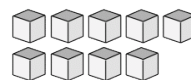
Il y a _____ unités
dans ce groupe.



Il y a _____ unités
dans ce groupe.



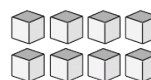
Il y a _____ unités
dans ce groupe.



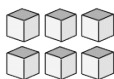
Il y a _____ unités
dans ce groupe.



Il y a _____ unités
dans ce groupe.



Il y a _____ unités
dans ce groupe.



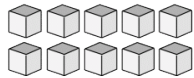
Il y a _____ unités
dans ce groupe.



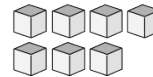
Il y a _____ unités
dans ce groupe.

Compte de Blocs de Base Dix Solutions (A)

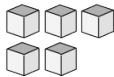
Instructions: Comptez le nombre d'unités qui se trouvent dans chaque groupe ci-dessous.



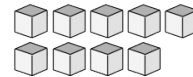
Il y a 10 unités dans ce groupe.



Il y a 7 unités dans ce groupe.



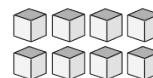
Il y a 5 unités dans ce groupe.



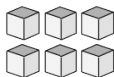
Il y a 9 unités dans ce groupe.



Il y a 4 unités dans ce groupe.



Il y a 8 unités dans ce groupe.



Il y a 6 unités dans ce groupe.



Il y a 2 unités dans ce groupe.