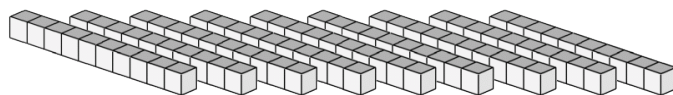
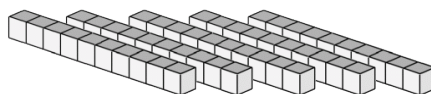


Compte de Blocs de Base Dix (A)

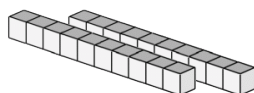
Instructions: Chaque bâtonnet vaut une dizaine. Que vaut chaque groupe de dizaines ci-dessous?




La valeur de ce groupe de dizaines est _____.



La valeur de ce groupe de dizaines est _____.



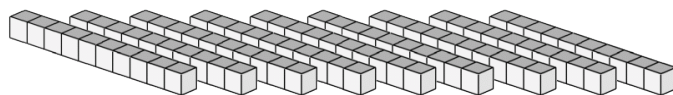
La valeur de ce groupe de dizaines est _____.



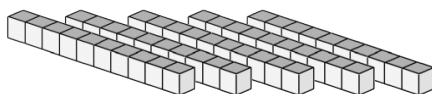
La valeur de ce groupe de dizaines est _____.

Compte de Blocs de Base Dix Solutions (A)

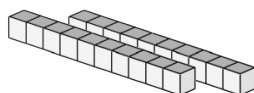
Instructions: Chaque bâtonnet vaut une dizaine. Que vaut chaque groupe de dizaines ci-dessous?



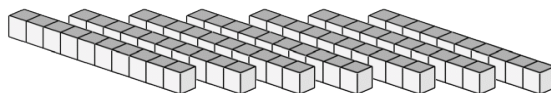
La valeur de ce groupe de dizaines est 90.



La valeur de ce groupe de dizaines est 50.



La valeur de ce groupe de dizaines est 20.



La valeur de ce groupe de dizaines est 70.