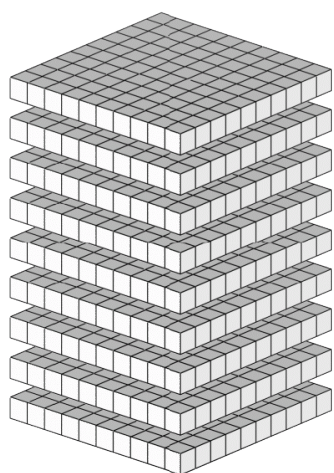
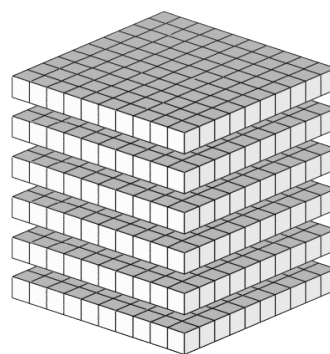


Compte de Blocs de Base Dix (A)

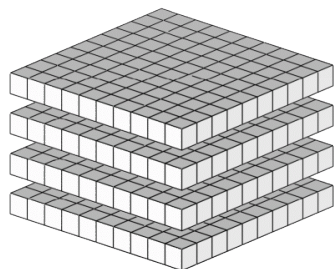
Instructions: Chaque bloc vaut une centaine. Que vaut chaque groupe de centaines ci-dessous?



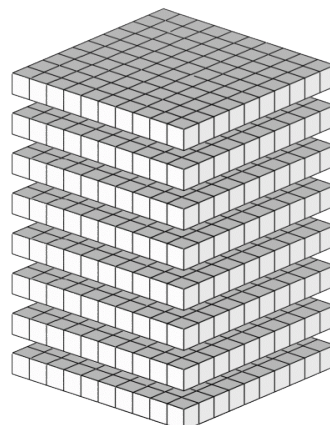
La valeur de ce groupe de centaines est _____.



La valeur de ce groupe de centaines est _____.



La valeur de ce groupe de centaines est _____.



La valeur de ce groupe de centaines est _____.