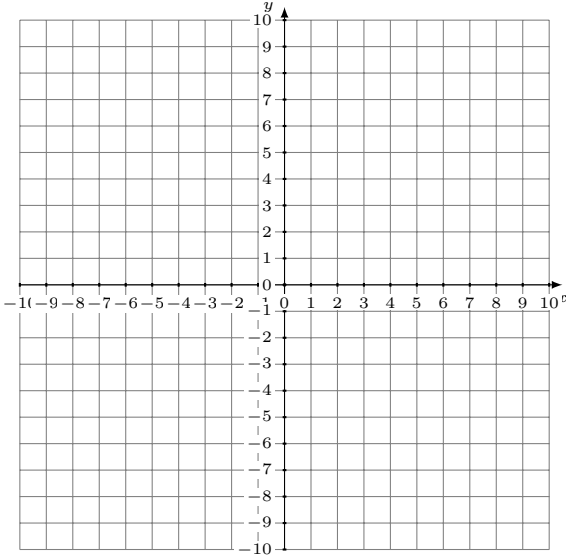


# Représentation Graphique d'un Système d'Équations (D)

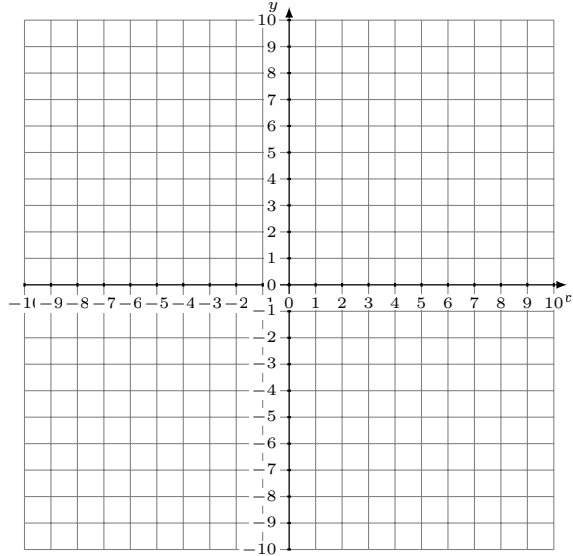
Représentez à l'aide d'un graphique chaque système et identifiez sa solution.

1. 
$$2x - y = -3$$
$$7x - y = 7$$



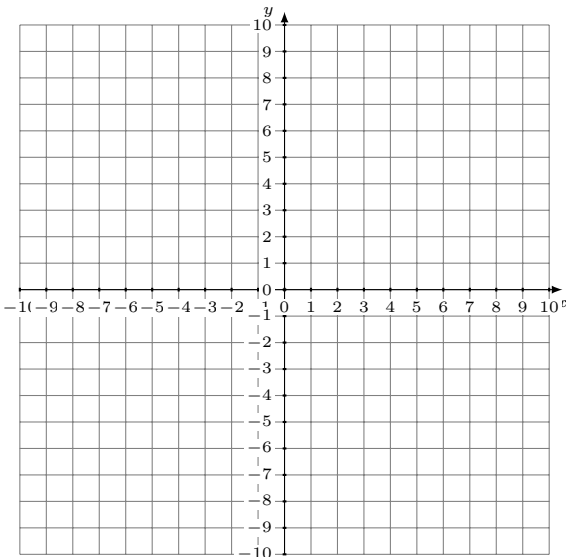
Solution: (----,----)

2. 
$$y = -4x + 1$$
$$12x + y = 9$$



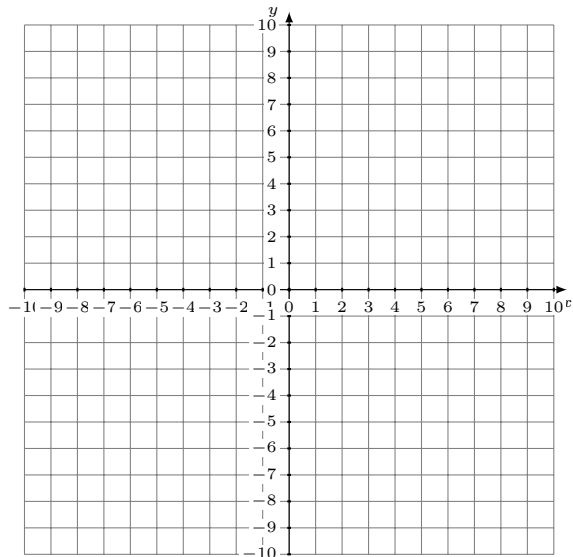
Solution: (----,----)

3. 
$$3x + 4y = 32$$
$$y = \frac{13}{4}x - 8$$



Solution: (----,----)

4. 
$$7x - 6y = -18$$
$$2x - y = -8$$



Solution: (----,----)