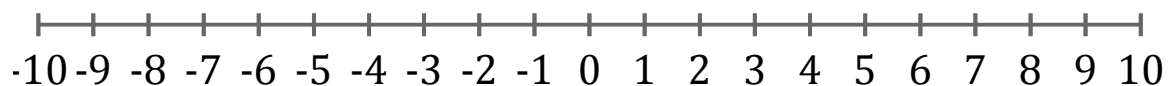


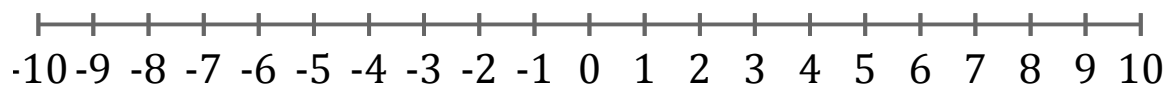
Représentation Graphique d'une Inéquation (D)

Représentez sur une droite graduée la solution de l'inéquation suivante.

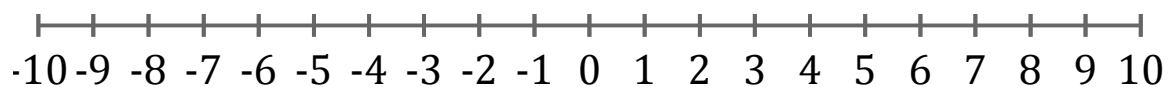
1. $x > 2$



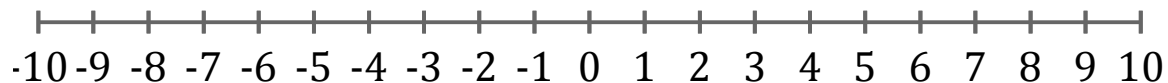
2. $x \geq 7$



3. $x \leq 3$



4. $x < -8$



5. $x \leq 3$

