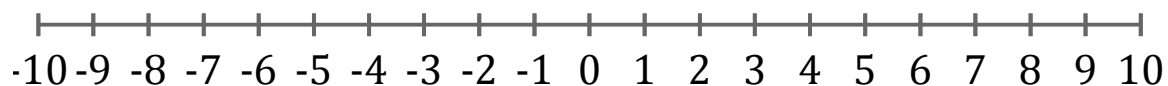


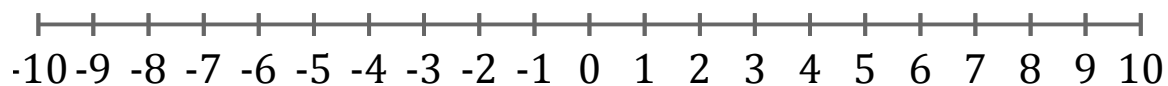
## Représentation Graphique d'une Inéquation (A)

Représentez sur une droite graduée la solution de l'inéquation suivante.

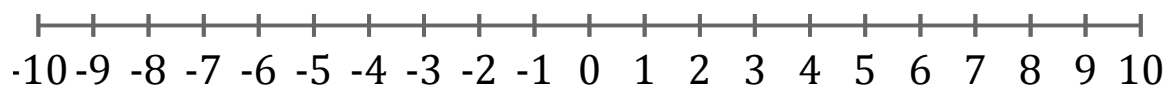
1.  $x \leq 3$



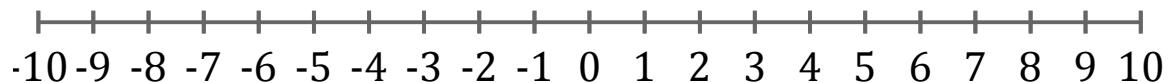
2.  $x \geq 0$



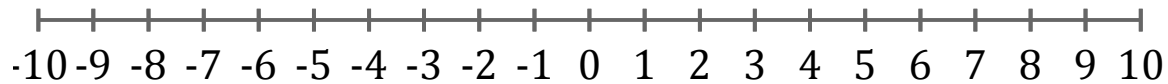
3.  $x < 6$



4.  $x < -4$



5.  $x \leq -8$



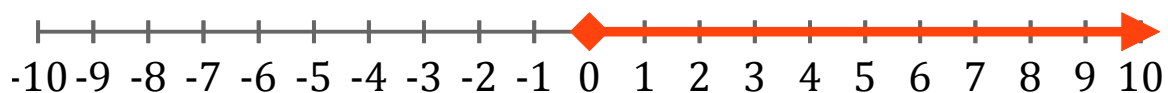
## Représentation Graphique d'une Inéquation (A) Réponses

Représentez sur une droite graduée la solution de l'inéquation suivante.

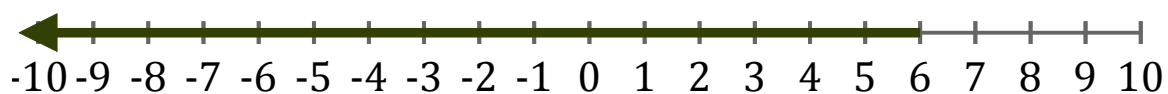
1.  $x \leq 3$



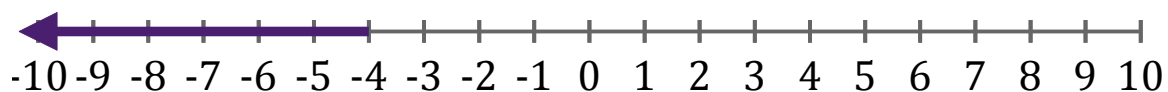
2.  $x \geq 0$



3.  $x < 6$



4.  $x < -4$



5.  $x \leq -8$

