



Addition de Cartes de Jeux (F)

Calculez la somme de chaque ensemble de cartes.


7♦ K♠ 

10♦ 9♥ 

8♣ J♠ 

4♦ 5♠ 

9♠ 4♦ 


9♠ 6♠ 


Q♣ 4♠ 

A♦ 9♥ 

Q♥ 4♠ 

Q♥ 5♦ 

9♠ 4♥ 

6♣ 3♣ 

Addition de Cartes de Jeux (F) Solutions

Calculez la somme de chaque ensemble de cartes.



20



19



19



9



13



15



16



10



16



17



13



9